




1



**DAS 5ER HAUS:**

Ergänze die Zahlen im 5er Haus!

Was fällt dir auf?

Male die Zahlen die mit 0 enden blau an und male alle die mit 5 enden rot an!

Was fällt dir noch auf?

$5 \cdot 5 = \underline{\quad}$  das ist genau die Hälfte von

$10 \cdot 5 = \underline{\quad}$

2

Male die Zahlen der 5er-Reihe an!

1	2	3	4	5	6	7	8	9	10
11	12	13	14	15	16	17	18	19	20
21	22	23	24	25	26	27	28	29	30
31	32	33	34	35	36	37	38	39	40
41	42	43	44	45	46	47	48	49	50

3

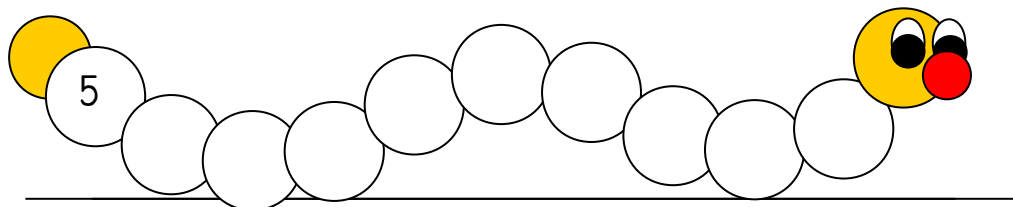
Male alle Ziegelsteine mit demselben Wert mit der gleichen Farbe an!

$10 \cdot 5$	$4 \cdot 5$	15	$7 \cdot 5$	45	$6 \cdot 5$	$2 \cdot 5$
	10	$1 \cdot 5$	$5 \cdot 5$	50	$9 \cdot 5$	20
5	$8 \cdot 5$	35	$3 \cdot 5$	40	30	25



4

Der 5er-Wurm kriecht vorwärts:



5



$10 \cdot 5 = \underline{\quad}$



$\underline{\quad} \cdot 5 = \underline{\quad}$



-----



-----



-----




-----



-----

6




$40 : 5 = \underline{\quad}$



$35 : 5 = \underline{\quad}$



$25 : 5 = \underline{\quad}$




$50 : 5 = \underline{\quad}$



$15 : 5 = \underline{\quad}$



$45 : 5 = \underline{\quad}$



$20 : 5 = \underline{\quad}$

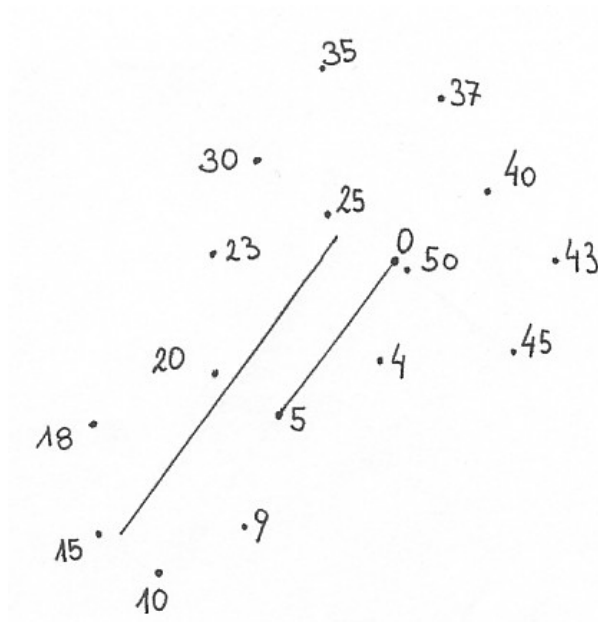


$10 : 5 = \underline{\quad}$



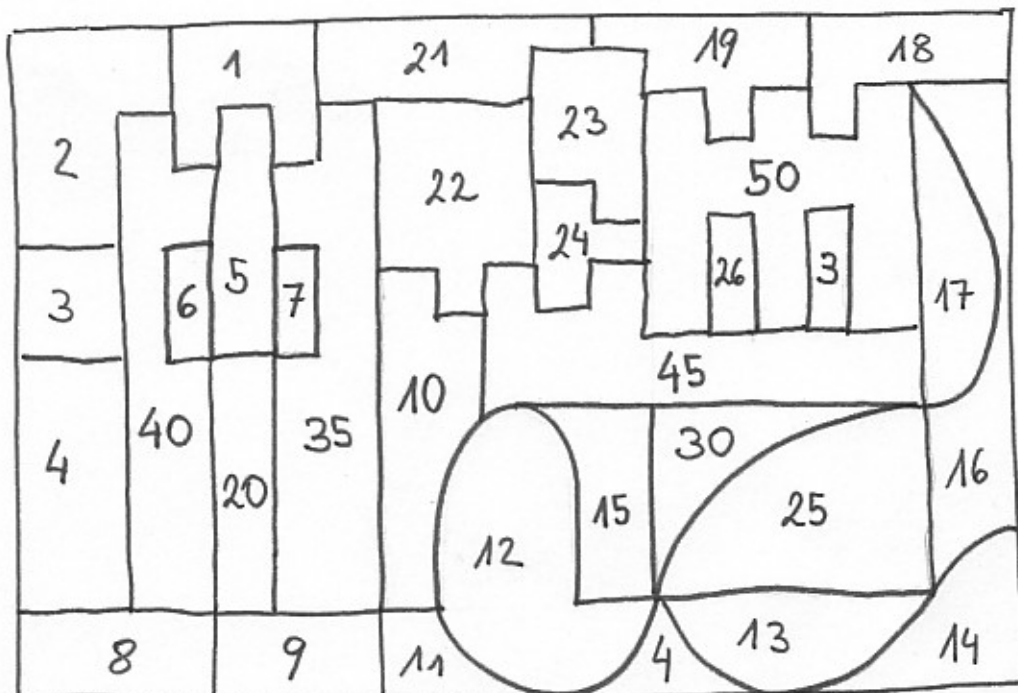
7

Verbinde die Zahlen der 5er-Reihe miteinander!



8

Male die Kästchen mit den Zahlen der 5er-Reihe an!








11

Ergänze sinnvoll!

5	10	
---	----	--



35		
----	--	--

		50
--	--	----

		20
--	--	----


	25	
--	----	--

12

Frau Gruber möchte Orangenmarmelade selber herstellen.

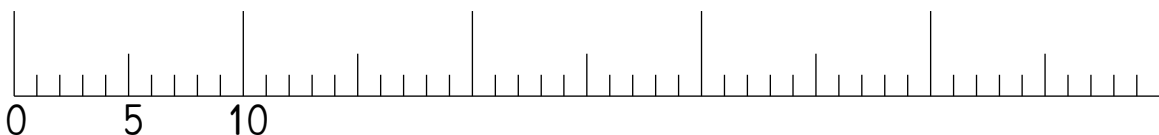
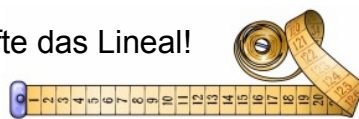
In ihrem Kochbuch steht, dass sie dafür 35 Orangen benötigt. Beim Obsthändler um die Ecke werden die Orangen in Säckchen zu je 5 Orangen angeboten.

Wie viele Säckchen muss Frau Gruber kaufen?



13

Beschrifte das Lineal!





13



Lisa hat von ihrer Oma 20€ geschenkt bekommen. Da Lisa sehr gerne Comics liest, stürmt sie in den nächsten Zeitschriftenladen. Dort entdeckt sie Comicbücher. Ein Buch kostet 5 €. Wie viele Comicbücher kann sich Lisa von ihrem Geld kaufen?

14

Geldwechseln

In wie viele 5 €-Scheine (Fünfer) kannst du die folgenden Scheine jeweils wechseln?



\_\_\_\_\_ Fünfer



\_\_\_\_\_ Fünfer



\_\_\_\_\_ Fünfer